

平面图

李修成

计算机科学与技术学院

平面图的基本概念

欧拉公式

平面图的判定

平面图的对偶图

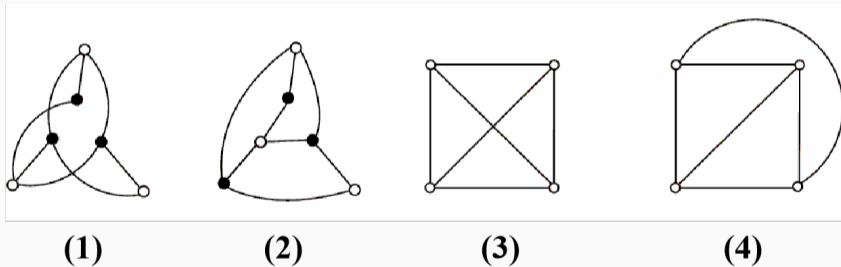
作业

平面图的基本概念

平面图

定义 1.1. 给定无向图 G ,

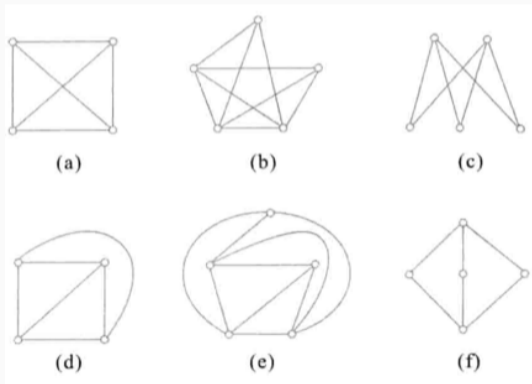
- 若能将 G 画在平面上使的除顶点外无边相交, 则称 G 是**可平面图**, 简称**平面图**.
- 画出的无边相交的图称为 G 的**平面嵌入** planar representation.
- 无平面嵌入的图称为**非平面图**.



(2) 是 (1) 的平面嵌入, (4) 是 (3) 的平面嵌入.

平面图性质

- K_1, K_2, K_3, K_4 都是平面图.
- $K_5 - e$ 也是平面图.
- 完全二部图 $K_{1,n} (n \geq 1), K_{2,n} (n \geq 1)$ 是平面图.
- $K_5, K_{3,3}$ 是非平面图 (推论 2.1) .



命题 1.1.

- 平面图的子图都是平面图, 非平面图的母图都是非平面图.
- 平行边与环不影响平面性.

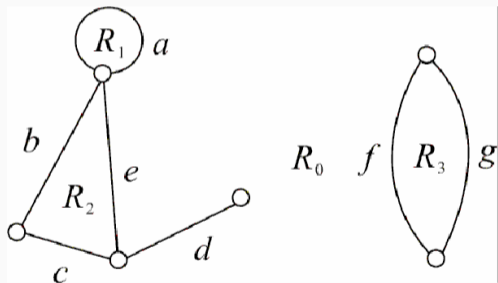
由命题 1.1 可知,

- K_n ($n \leq 4$) 和 $K_{2,n}$ ($n \geq 1$) 的所有子图均为平面图.
- 含 K_5 或 $K_{3,3}$ 为子图的图都是非平面图, 如 K_n ($n \geq 5$), $K_{s,t}$ ($s, t \geq 3$).

定义 1.2. 给定平面图 G 的平面嵌入, G 的边将平面划分成若干个区域,

- 每个区域都称为 G 的一个面;
- 其中有一个面的面积无限, 称为无限面或外部面, 通常记为 R_0 ;
- 其余面的面积有限, 称为有限面或内部面, 通常记为 R_1, R_2, \dots ;
- 包围每个面的所有边组成的回路组称为该面的边界;
- 边界的长度称为该面的次数, 面 R 的次数记为 $\deg(R)$.

例子 1.1.



$$\deg(R_1)=1, \deg(R_2)=3, \\ \deg(R_3)=2, \deg(R_0)=8.$$

定理 1.1. 平面图各面次数之和等于边数的两倍.

证明. 对每一条边 e , 若 e 在两个面的公共边界上, 则在计算这两个面的次数时, e 各提供 1. 而当 e 只在某一个面的边界上出现时, 它必在该面的边界上出现两次, 从而在计算该面的次数时, e 提供 2.

定义 1.3. G 为简单平面图, 若在 G 的任意两个不相邻的顶点之间加一条边所得图为非平面图, 则称 G 为极大平面图.

- K_1, K_2, K_3, K_4 都是极大平面图.
- $K_5, \del{K_{3,3}} 删去一条边后是极大平面图.$

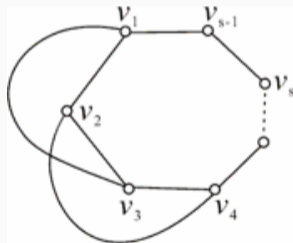
定理 1.2. 极大平面图是连通的, 且当阶数大于等于 3 时没有割点和桥.

证明. 留作练习.

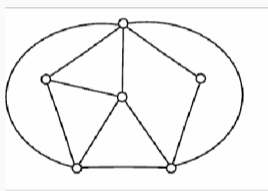
极大平面图

定理 1.3. 设 G 为 n ($n \geq 3$) 阶简单连通的平面图, 若 G 为极大平面图, 则 G 的每个面的次数均为 3.

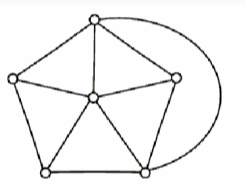
证明. (\Rightarrow) 由 G 为简单平面图可知, G 中无环和平行边; 由 G 连通且 $n \geq 3$ 知, G 中不存在 K_2 作为连通分支. 故 G 中各面次数均大于等于 3. 现证明各面次数都不可能大于 3. 假如 $\deg(R_i) = s \geq 4$, 若 v_1 与 v_3 不相邻, 则在 R_i 内加边 $\{v_1, v_3\}$ 不破坏平面性, 与 G 是极大平面图矛盾. 因而 v_1 与 v_3 必相邻, 且边 $\{v_1, v_3\}$ 必在 R_i 外部 (为什么?). 同理, v_2 与 v_4 也相邻且边 $\{v_2, v_4\}$ 在 R_i 的外部. 于是 $\{v_1, v_3\}$ 与 $\{v_2, v_4\}$ 相交于 R_i 的外部, 与 G 是平面图矛盾.



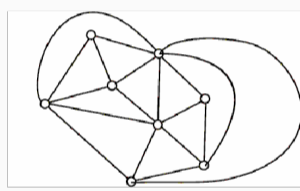
例子 1.2. 如下各图是否为极大平面图?



(1)



(2)



(3)

定义 1.4. 若在非平面图 G 中任意删除一条边, 所得图为平面图, 则称 G 为极小非平面图.

- $K_5, K_{3,3}$ 都是极小非平面图.
- 极小非平面图必为简单图.

欧拉公式

欧拉公式

定理 2.1. 设 G 为 n 阶 m 条边 r 个面的连通平面图, 则有

$$n - m + r = 2.$$

证明. 对 m 进行归纳证明. 当 $m = 0$ 时, G 为平凡图, $n = 1, m = 0, r = 1$, 成立.

假设 $m = k (k \geq 0)$ 时结论成立. 当 $m = k + 1$ 时:

1. 若 G 为树, 令 v 为树中 1 度顶点, 则 $G' = G - v$ 仍是连通的且

$n' = n - 1, m' = m - 1 = k, r' = r$. 由归纳假设, $n' - m' + r' = 2$. 于是

$$n - m + r = (n' + 1) - (m' + 1) + r' = n' - m' + r' = 2.$$

2. 若 G 不是树, 则 G 中含有圈. 任取圈上一条边 e , 则 $G' = G - e$ 仍连通且

$n' = n, m' = m - 1 = k, r' = r - 1$. 由归纳假设, $n' - m' + r' = 2$. 于是

$$n - m + r = n' - (m' + 1) + (r' + 1) = n' - m' + r' = 2.$$

欧拉公式的推广

定理 2.2 (广义欧拉公式). 对于有 k 个连通分支的平面图 G , 令 G 的顶点数、边数和面数分别为 n, m, r , 则有

$$n - m + r = k + 1.$$

证明. 令 G 的连通分支为 G_1, G_2, \dots, G_k . 由欧拉公式知

$$n_i - m_i + r_i = 2, \quad i = 1, 2, \dots, k. \quad (1)$$

G 的面数有 $r = \sum_{i=1}^k r_i - (k - 1)$. Eq. 1 等式两边同时取 Σ 有,

$$2k = \sum_{i=1}^k (n_i - m_i + r_i) = n - m + r + k - 1,$$

即 $n - m + r = k + 1$.

与欧拉公式有关的定理

定理 2.3. 设 G 为连通的平面图, 每个面的次数至少为 $\ell \geq 3$, 则

$$m \leq \frac{\ell}{\ell - 2}(n - 2).$$

证明. 由定理 1.1 及欧拉公式有,

$$2m = \sum_{i=1}^r \deg(R_i) \geq \ell \cdot r = \ell(2 + m - n)$$

解的

$$m \leq \frac{\ell}{\ell - 2}(n - 2).$$

推论 2.1. $K_5, K_{3,3}$ 都是非平面图.

证明. 假设 K_5 是平面图, K_5 无环和平行边, 每个面的次数均大于等于 3, 则

$$10 \leq \frac{3}{3-2}(5-2) = 9,$$

出现矛盾. 假设 $K_{3,3}$ 是平面图, $K_{3,3}$ 中最短圈的长度为 4, 每个面的次数均大于等于 4, 则

$$9 \leq \frac{4}{4-2}(6-2) = 8,$$

出现矛盾.

定理 2.4. 设 G 为 n ($n \geq 3$) 阶 m 条边的极大平面图, 则 $m = 3n - 6$.

证明. 极大平面图是连通图, 由欧拉公式得 $r = 2 + m - n$. 又 G 是极大平面图, 由定理1.3知, G 的每个面的次数均为 3, 所以 $2m = 3r$, 得 $m = 3n - 6$.

推论 2.2. 设 G 是 n ($n \geq 3$) 阶 m 条边的简单平面图, 则 $m \leq 3n - 6$.

推论 2.3. 设 G 是简单平面图, 则 G 的最小度 $\delta \leq 5$.

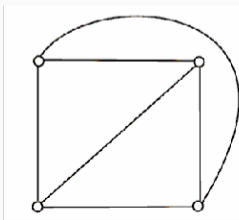
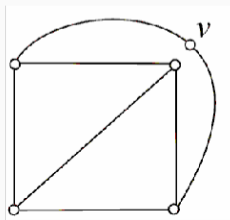
定理 2.5. 如果简单连通平面图 G 的每个面的次数都等于 3, 则 G 为极大平面图.

证明. 由定理 1.1 和欧拉公式知 $2m = 3r, r = 2 + m - n \implies m = 3n - 6$. 若 G 不是极大平面图, 则 G 中存在不相邻的顶点 u, v 使得 $G' = G \cup (u, v)$ 还是简单平面图. 而 $m' = m + 1, n' = n$, 故 $m' > 3n' - 6$, 与推论 2.2 矛盾.

平面图的判定

定义 3.1. 给定无向图 G ,

- 令 $e = \{u, v\}$ 为图 G 的一条边, 在 G 中删除 e , 增加新的顶点 w , 使 u, v 均与 w 相邻, 称为在 G 中插入 2 度顶点 w .
- 令 w 为 G 中与 u, v 相邻 2 度顶点, 删除 w 增加新边 $\{u, v\}$, 称为在 G 中消去 2 度顶点 w .
- 若两个图 G_1 与 G_2 同构, 或通过反复插入或消去 2 度顶点后同构, 则称 G_1 与 G_2 **同胚**.
- 若两个图 G_1 与 G_2 通过若干次插入或消去 2 度顶点后同构, 则称 G_1 与 G_2 **同胚**, G_1 is homeomorphic to G_2 . The noun of homeomorphic is homeomorphism.



- 同胚 homeomorphism 是一个拓扑上的定义.
- 同态 homomorphism 是一个代数上的定义.
- 同构 isomorphism 是一种特殊的同态.
- A homomorphism $f: G \mapsto G'$ is a map between two groups G, G' such that for all $a, b \in G$,

$$f(ab) = f(a)f(b).$$

- An isomorphism $f: G \mapsto G'$ from G to G' is a bijective homomorphism.
- A homeomorphism $f: X \mapsto Y$ is a map between two topological spaces X, Y such that
 1. f is a bijection.
 2. f and its inverse function f^{-1} are both continuous.

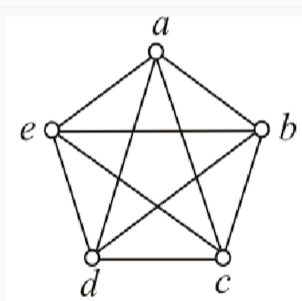
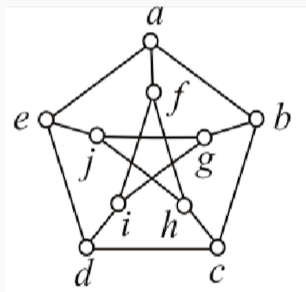
库拉图斯基 Kuratowski 定理

定理 3.1. G 是平面图 $\iff G$ 中不含与 K_5 或 $K_{3,3}$ 同胚的子图.

定理 3.2. G 是平面图 $\iff G$ 中无可收缩为 K_5 或 $K_{3,3}$ 的子图.

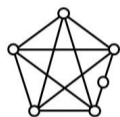
例题

例子 3.1. 证明彼得森图为非平面图.

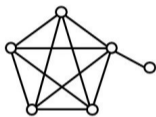


例题

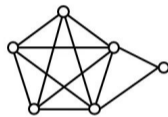
例子 3.2. 对 K_5 插入一个 2 度顶点, 或在 K_5 外放置一个顶点使其与 K_5 上的若干个顶点相邻, 共可以产生多少个非同构的 6 阶简单连通非平面图?



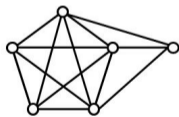
(a)



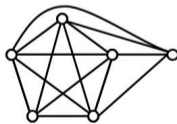
(b)



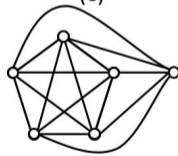
(c)



(d)



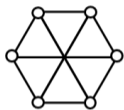
(e)



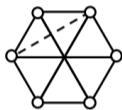
(f)

例题

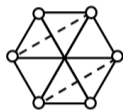
例子 3.3. 由 $K_{3,3}$ 加若干条边能生成多少个非同构的 6 阶简单连通非平面图?



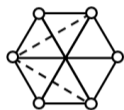
(a)



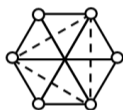
(b)



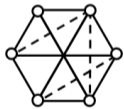
(c)



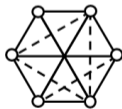
(d)



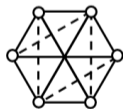
(e)



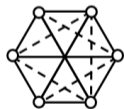
(f)



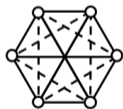
(g)



(h)



(i)



(j)

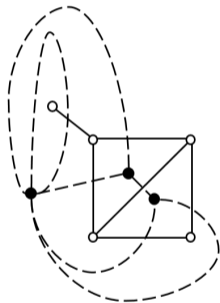
平面图的对偶图

定义 4.1. 设 G 是一个平面图的平面嵌入，构造图 G 的**对偶图** G^* 如下：

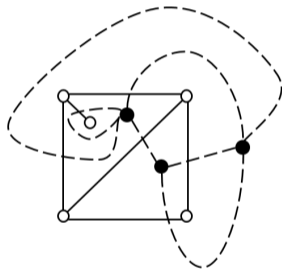
- 在 G 的每一个面 R_i 中放置一个顶点 v_i^* ，设 e 为 G 的一条边，
- 若 e 在 G 的面 R_i 与 R_j 的公共边界上，则作边 $e^* = \{v_i^*, v_j^*\}$ 与 e 相交，且不与其他任何边相交；
- 若 e 为 G 中的桥且在面 R_i 的边界上，则作以 v_i^* 为端点的环 $e^* = \{v_i^*, v_i^*\}$.

平面图的对偶图

例子 4.1. 平面嵌入的对偶图，实线和空心点是平面嵌入，虚线和实心点是对偶图.



(a)



(b)

平面图的对偶图的性质

平面图 G 的对偶图 G^* 有以下性质.

- G^* 是平面图, 而且是平面嵌入.
- G^* 是连通图.
- 若边 e 为 G 中的环, 则 G^* 与 e 对应的边 e^* 为桥; 若 e 为 G 中的桥, 则 G^* 与 e 对应的边 e^* 为环.
- 在多数情况下, G^* 为多重图 (含平行边的图)
- 同一个平面图的不同平面嵌入的对偶图不一定同构.

平面图的对偶图的性质

定理 4.1. 设平面图 G 是连通的, G^* 是 G 的对偶图, n^*, m^*, r^* 和 n, m, r 分别为 G^* 和 G 的顶点数、边数和面数, 则

(1) $n^* = r, m^* = m.$

(2) $r^* = n.$

(3) 设 G^* 的顶点 v_i^* 位于 G 的面 R_i 中, 则 $d_{G^*}(v_i^*) = \deg(R_i).$

证明. (1) 由对偶图定义可知成立.

(2) 由于 G 与 G^* 都连通, 因而满足欧拉公式, $n - m + r = 2, n^* - m^* + r^* = 2$, 又由 $n^* = r, m^* = m$ 可以推出 $r^* = n.$

(3) 设 G 的面 R_i 的边界为 C_i , C_i 中有 k_1 ($k_1 \geq 0$) 个桥、 k_2 条非桥的边, 于是 C_i 的长度为 $k_2 + 2k_1$, 即 $\deg(R_i) = k_2 + 2k_1$. 而 k_1 条桥对应 v_i^* 处有 k_1 个环, k_2 条非桥的边对应从 v_i^* 处引出 k_2 条边, 故 $d_{G^*}(v_i^*) = k_2 + 2k_1 = \deg(R_i).$

平面图的对偶图的性质

定理 4.2. 若平面图 G 有 $k(k \geq 1)$ 个连通分支, G^* 是 G 的对偶图, n^*, m^*, r^* 和 n, m, r 分别为 G^* 和 G 的顶点数、边数和面数, 则

(1) $n^* = r, m^* = m.$

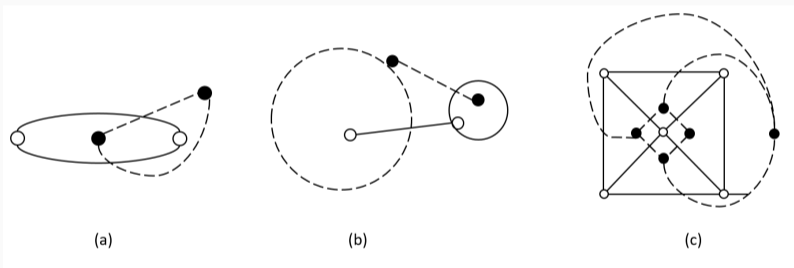
(2) $r^* = n - k + 1.$

(3) 设 G^* 的顶点 v_i^* 位于 G 的面 R_i 中, 则 $d_{G^*}(v_i^*) = \deg(R_i).$

自对偶图

定义 4.2. 若 G^* 是 G 的对偶图且 $G^* \cong G$, 则称 G 为自对偶图.

例子 4.2. 下图三个实线的图都是自对偶图, 虚线的图是其对偶图.

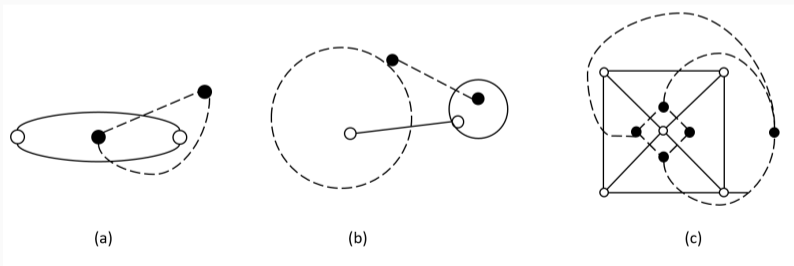


自对偶图

自对偶图

定义 4.3. 在 $n-1$ ($n \geq 4$) 边形 C_{n-1} 内放置一个顶点, 连接这个顶点与 C_{n-1} 上的所有顶点. 所得的 n 阶简单图称作 n 阶轮图, 记作 W_n .

- n 为奇数的轮图称作奇阶轮图, n 为偶数的轮图称作偶阶轮图.
- 在图-(c) 中, 实边图为 5 阶轮图 W_5 .
- 轮图都是自对偶图.



作业

习题 17:

- 4, 7, 14, 15.
- 17, 21, 24.